

# SOUTĚŽ

VÝSLEDKY SOUTĚŽE



## OPEVNĚNÍ MĚSTA ČESKÝCH BUDĚJOVIC

Vědomostní soutěž pro děti a mládež do 16 let – jednotlivce i kolektivy.  
Soutěž probíhala od 17. 9. 2022 do 31. 12. 2022

Více informací i tyto pracovní listy najdete v Turistickém informačním centru českobudějovické radnice nebo na webových stránkách odboru památkové péče Magistrátu města České Budějovice [www.c-budejovice.cz](http://www.c-budejovice.cz) a Národního památkového ústavu, územního odborného pracoviště v Českých Budějovicích [www.npu.cz/uopcb](http://www.npu.cz/uopcb).



NÁRODNÍ  
PAMÁTKOVÝ  
ÚSTAV

ÚZEMNÍ ODBORNÉ  
PRACOVNÍŠTĚ V ČESKÝCH  
BUDĚJOVICÍCH



České  
Budějovice



# 1. Gotické opevnění města

**1.1 Uved'te jméno zakladatele města České Budějovice a rok, kdy bylo město založeno.**  
Město České Budějovice založil král Přemysl Otakar II. v r. 1265.

**1.2 Uved'te, jak se tento mocný šlechtický rod jmenoval.**

Nejmocnějším šlechtickým rodem v českých zemích byly v době založení města České Budějovice Vítkovci. nebo Rožmberkové jako jedna z větví tohoto rodu).

**1.3 Uved' jména řek, na jejichž soutoku bylo město založeno a v čem jeho strategická poloha spočívala?**

Město bylo založeno na soutoku řek Vltavy a Malše, čímž byl posílen obranný systém města. Řeky tvořily přirozenou bariéru podél západní a jihozápadní části města. Na východní a severní straně bylo využito upravené koryto Mlýnské stoky. Voda navíc sloužila řemeslníkům, kteří ji ke své činnosti potřebovali a po splavnění Vltavy i k rozvoji obchodu a dopravy.

**1.4 Bonusový úkol: Vyhledejte, jak cimbuří vypadalo a nakreslete ho. Pokud si troufnete, můžete ztvárnit i obránce při útoku 😊**

**1.5 Zjistěte, jak vysoká, široká a dlouhá bývala hlavní hradební zeď, a v které části města se dodnes dochovala část obranného ochozu.**

Hlavní hradební zeď byla vysoká asi 7 m, široká kolem 1,6 m a táhla se podél celého obvodu města v délce přibližně 1780 m. Úsek obranného ochozu se dochoval v Železné páně (dříve věž Spilhaybl).

**1.6 Uved'te, jak se nazývala druhá, nižší hradební zeď a jak se říkalo prostoru mezi oběma hradebními zdmi?**

Nižší hradební zeď se nazývala „parkánová hradba“, prostoru mezi hlavní a parkánovou hradbou se říkalo „parkán“, měl sloužit k pohybu obránců v první fázi dobývání města.

**1.7 V Českých Budějovicích najdeme malý úsek, kde se dodnes dochovaly obě za sebou stojící hradební zdi. Kde se nachází? Úsek hlavní i parkánové hradby se dochoval na Zátkově nábřeží naproti Sokolskému ostrovu v dnešní Biskupské zahradě (včetně bašty později přestavěné na Gloriet a věže Otakarky).**

## 2. Městské brány, věže, bašty

**2.1 Zjistěte, kolik měly České Budějovice hlavních bran, jak se nazývaly a kde se nacházely (uved'te dnešní názvy ulic, popř. více názvů jednotlivých bran, pokud se dochovaly).**

České Budějovice měly tři hlavní brány:

- brána Písecká, později Pražská - na konci dnešní Krajinské ulice / na severní straně města
- brána Svinenská, později Vídeňská na konci dnešní ul. Karla IV./ na východní straně města
- brána Rožnovská, později Krumlovská a Linecká na konci dnešní ul. dr. Stejskala / na jižní straně města


**2.2 Vyhledejte obrázky českobudějovických hlavních bran, porovnejte je s kresbami níže a pod kresby napište správné názvy městských bran:**




NÁRODNÍ  
PAMÁTKOVÝ  
ÚSTAV

ÚZEMNÍ ODBORNÉ  
PRACOVNÍŠTĚ V ČESKÝCH  
BUDĚJOVICÍCH






Pražská brána



Svinenská brána



Rožnovská brána

**2.3 Jeden ze zájezdních hostinců za branami města se zachoval až do dnešních dnů. Vypátrejte ho a uveďte, jak se jmenuje.**

Velký zájezdní hostinec, který vznikl za branami města České Budějovice v roce 1821 a zachoval se do dnešních dnů, se jmenuje U Zelené ratolesti. Dodnes můžeme navštívit i hostinec U Černého koníčka, ten se ale nezachoval v původní podobě.

**2.4 Uveďte názvy alespoň dvou menších branek či vodních branek, kterými se procházelo pouze k řece.**

Jedna branka se nazývala „Rybářská brána“ (menší hranolová věž u Předního mlýna, dnešního hotelu Budweis) a do dnešních dnů se nedochovala.

Druhou brankou je tzv. Solní branka (hranolová věž za současnou radnicí v Radniční ul., dříve nazývaná Šiklova branka, Vodní branka, Wassertür), kterou si můžeme projít v původním místě i dnes, byť byla její podoba částečně pozměněna.

**2.5 Uveďte názvy alespoň tří dalších obranných věží, které bývaly součástí městského opevnění. Dochovaly se některé z nich dodnes?**

Obranné věže, které byly součástí městského opevnění, byly například: Manda, Lauseck, z těch, které se dochovaly dodnes, můžeme jmenovat Rabenštejnskou věž, věž Železnou pannu (dříve známou pod názvem Spielhaybl) či věž Otakarku, věží je i tzv. polygonální bašta v těsném sousedství klášterního kostela Obětování Panny Marie.

**2.6 Uveďte název známého českobudějovického objektu, který sloužil také jako zbrojnice a dochoval se do dnešních dnů? Kde se nachází?**

Jedná se o objekt Solnice, kterou v Českých Budějovicích najdeme na Piaristickém náměstí.




NÁRODNÍ  
PAMÁTKOVÝ  
ÚSTAV

ÚZEMNÍ ODBORNÉ  
PRACOVISŤE V ČESKÝCH  
BUDĚJOVICÍCH



České  
Budějovice






**2.7 Kdo je autorem této veduty z roku 1602 (viz výše), díky níž si můžeme udělat představu o tom, jak městské opevnění vypadalo?**

Autorem je Jan Willenberg, autor dřevořezů, grafik a kreseb, známý zejména pro série vedut českých měst, ale také hradů a zámků.



**2.8 Bonusový úkol.** Vyhledejte staré fotografie či kresby jedné z městských bran a prohlédněte si je. Schematicky překreslete a podle své fantazie navrhnete barevnou výzdobu brány do města.

### 3. Opevnění města v pohusitské době



**3.1 Jak se tento nový obranný prvek před branami jmenoval? (Nákres tohoto obranného prvku najdeš vlevo)**

Nový obranný prvek sloužící k lepší obraně brány se nazývá „barbakán“. Dochovaný barbakán se v České republice nachází např. u Žatecké brány v Kadani. V Českých Budějovicích se žádný barbakán nezachoval.

**3.2 Uvedte, kolik těchto obranných prvků bylo v Českých Budějovicích postaveno a kde?**

V Českých Budějovicích byly barbakány vybudovány celkem tři. Vždy jeden u každé městské brány, tj. u Pražské brány (dříve Písecké) v dnešní Krajinské ulici, u Linecké či Krumlovské (později Rožnovské) brány v dnešní ulici Dr. Stejskala, u Vídeňské brány (dříve Svinenské) brány dnes v ulici Karla IV.

**3.3 Proč byly střílny pojmenovány jako „klíčové“?**

Označení si střílny vysloužily díky svému tvaru, připomínajícímu obrácenou klíčovou díрку, jednalo se o kruhový otvor, do něhož bývala pokládána hlaveň palné zbraně, a ze kterého směrem vzhůru vybíhala úzká štěrbinová sloužící k míření. Obrys nebyl vyzdíván, ale zedníci do zdiva vkládali prefabrikované terakotové panely s vykrojeným otvorem klíčového tvaru.

**3.4 Uvedte názvy dvou věží městského opevnění, které byly vystavěny v 15. a v 16. století.**

Nově postavené věže nesly názvy Rauscher a Nová věž, později nazývaná také Břidlicová nebo Prašná věž. V tomto období byla postavena i věž Gauendorf.



NÁRODNÍ  
PAMÁTKOVÝ  
ÚSTAV

ÚZEMNÍ ODBORNÉ  
PRACOVNÍŠTĚ V ČESKÝCH  
BUDĚJOVICÍCH



České  
Budějovice



## 4. Moderní pevnost – baroko

**4.1 V roce 1618 vypukla v Evropě dlouhá a krutá válka. Rozsáhlý válečný konflikt způsobil lidem na zasažených územích mnoho útrap, v českých zemích ubylo až o jednu třetinu obyvatel! I České Budějovice byly reálně ohroženy. Víte, jak se tato válka nazývala?**

Válka, která vypukla v Evropě v r. 1618, trvala dlouhých 30 let, proto se nazývala Třicetiletá válka.

**4.2 Zjistěte, která českobudějovická brána v roce 1641 vyhořela.**

Jednalo se o věž Svinenskou (později nazývanou Vídeňská) v dnešní ulici U Karla IV.

**4.3 Zjistěte, kde se tato věž nacházela.**

Břidlicová věž se nacházela na konci dnešní Kanovnické ulice v blízkosti parku Na Sadech.

**4.4 Bonusový úkol. Vypátrejte, z čeho se vyráběl původní černý střelný prach používaný ve středověku a novověku.**

Původní černý střelný prach je směs dřevěného uhlí, síry a jemně mletého draselného ledku neboli dusičnanu draselného ( $KNO_3$ ), nazývaného také sanytr či solný květ. Tato výbušná směs byla používána až do poslední třetiny 19. století.

**4.5 Výstavba nového pevnostního systému v letech 1641 - 1648 byl odborně řízen lineckým stavitelem italského původu. Zjistěte jeho jméno. Napovíme, že se podílel také na přestavbě vyhořelého budějovického kostela.**

Jmenoval se Francesco de Canevalle.



**4.6 Prohlédněte si vedutu Daniela Wussina z roku 1665 a napište, jaké geometrické útvary připomínají půdorysy ravelinů v Českých Budějovicích?**

Českobudějovické raveliny měly tvar trojúhelníku a pětiúhelníku, některé měly i tvary lichoběžníků. Raveliny okolo bran měly tvar lichoběžníku se seříznutými rohy. Tvar ravelinu vždy vycházel ze stávající situace v terénu, tak aby se střelbou pokryly všechny úhly.

Jenom tam, kde bylo dost místa a bylo možné rozvinout dlouhou pevnostní linii, byly tvary pravidelné - trojúhelníky, pětiúhelníky (tj. zejména Na sadech a na Sokolském ostrově).

**4.7 Do dnešních dnů se nezachovaly žádné pozůstatky barokního opevnění, přesto můžeme na půdorysu Českých Budějovic sledovat jeho stopu. Jak se jmenuje ulice, která kopíruje část tohoto opevnění? (Pomoci Ti může i pohled na letecký snímek Č. Budějovic)**

Jedná se o ulici Na Sadech – patrné jsou zalomené křivky městských sadů v místech bývalých barokních ravelinů. Podle ravelinů je také tvarována část Senovážného náměstí.

## 5. Obléhání města

**5.1 Jak se vojevůdce, který r. 1420 táhl kolem Českých Budějovic, a přesto se nepokusil město dobýt, jmenoval?**

Slavný husitský vojevůdce se jmenoval Jan Žižka z Trocnova.

**5.2 Vyhledejte, jaké zámky získal generál Karel Bonaventura Buquoy za své válečné zásluhy v jižních Čechách.**

Generál Karel Bonaventura Buquoy získal panství Rožmberk, Nové Hrady, Libějovice a tvrz Cuknštejn.



NÁRODNÍ  
PAMÁTKOVÝ  
ÚSTAV

ÚZEMNÍ ODBORNÉ  
PRACOVNÍŠTĚ V ČESKÝCH  
BUDĚJOVICÍCH



## 6. Sochy patronů – duchovní ochrana města

### 6.1 Kde se dnes sochy Panny Marie Budějovické, které stávaly před městskými branami, nacházejí?

- První socha Panny Marie byla umístěna v roce 1715 před Rožnovskou bránu na Zátkově nábřeží (dnes stojí u Zlatého mostu)
- V r. 1716 bylo umístěno Mariánské sousoší před Pražskou bránu na dnešním Mariánském nám., kde se nachází dodnes.
- V r. 1746 byla třetí socha Panny Marie umístěna před Svinenskou bránu v prostoru dnešního Senovážného nám. (dnes se nachází v sídle NPÚ na Senovážném nám. 6)

### 6.2 Bonusový úkol: Zakreslete do mapy současné/původní umístění soch

## 7. Zánik opevnění v 19. a 20. století



### 7.1 Podívejte se na obrázek vlevo a uveďte, jaký řemeslník využíval bývalý parkán u dnešního slepého ramene Malše u Piaristického kláštera?

Na obrázku můžeme spatřit provazníka. Ten ke své práci potřeboval dlouhý úzký pruh pozemku, který mu nabízel právě prostor podél parkánové zdi. Fotografie je z roku 1935.

### 7.2 Postupně byly na místě bývalého opevnění budovány promenády, altány, lázně a kašny. Vznikal tak základ nového parku, který najdeme v Českých Budějovicích dodnes. Napište, jak se tento park jmenuje?

Na místě bývalého opevnění, kde se dříve nacházel příkop s raveliny a vnější hradební zeď, vznikl městský park Na Sadech.

### 7.3 Zjistěte, kde se obě železniční branky nacházely a jaký dopravní prostředek tudy jezdil.

První branka byla umístěna od jihu města u Biskupské ulice, druhá byla situována na severním konci České ulice. Byly vybudovány kvůli průjezdu koněspřežky (koňské dráhy či „koňky“) městem. Branky byly opatřeny mřížemi a po průjezdu vozů se zamykaly.

### 7.4 Vyhledejte, která z hlavních městských bran byla zbourána naposledy, a ve kterém roce to bylo.

Jako poslední z hlavních městských bran byla zbourána Pražská brána a to v roce 1867.

### 7.5 Uveďte, které z věží se dochovaly a pokuste se vypátrat, která z věží není vidět?

Do dnešních dnů se dochovaly věže: Rabenštejnská, Železná panna, polygonální bašta u kláštera a věž Otakarka v zahradě biskupství. Bílá věž či bašta (pozor – neplést si s Bílou věží kláštera na Piaristickém náměstí) byla v několika fázích postupně vestavěna do rozšiřované budovy Jihočeského divadla. Ač zůstala zachována, vidět dnes zvenku není.

### 7.6 Bonusový úkol: Vyberte si jednu z dochovaných věží či bašt a popište její původní a současné využití. Nakreslete nebo vyfotografujte vybranou věž nebo baštu.

### Průběžný úkol – Kolik mostů přes vodní toky (Mlýnská stoka, řeky) cestou minete? Cestou kolem bývalého městského opevnění lze minout 12 mostů.



NÁRODNÍ  
PAMÁTKOVÝ  
ÚSTAV

ÚZEMNÍ ODBORNÉ  
PRACOVISŤE V ČESKÝCH  
BUDĚJOVICÍCH



České  
Budějovice



## 8. Praktická část – po stopách opevnění

### **PRVNÍ ZASTAVENÍ – býv. Pražská brána v Krajinské ulici**

**8.1. Na jednom z domů v Krajinské ulici se nachází reliéf Pražské brány. Najděte jej a vyfoťte nebo překreslete na papír. Jaký nápis se u tohoto reliéfu Pražské brány nachází?**

*U reliéfu na domě v Krajinské ulici se nachází nápis: U Pražské brány.*

**8.2. Na pamětní desce vyhledejte letopočet, kdy k této tragické události došlo. Pamětní deska je napsaná latinsky, ale na stejném domě najdete i menší desku s českým překladem – opište jej.**

*Na pamětní desce se nachází letopočet: 31. ledna 1611*

*Český překlad pamětní desky zní: Simeon Plachý z Třebnice, muž slavného původu a výtečného vzdělání, kdysi měšťan a soudní písař, byl za náhlého vpádu pasovského vojska do tohoto města, na tomto místě nevině zavražděn. Jeho duše žije v Bohu.*

### **DRUHÉ ZASTAVENÍ - sirotčinec**

**8.3 Na zdi kostela vyhledejte informaci, v jakých letech a jak dlouho sestry Boromejky kostel stavěly?**

*Sestry Boromejky stavěly kostel sv. Rodiny v letech 1886–88, tj. 2 roky.*

### **TŘETÍ ZASTAVENÍ – Zlatý most**

**8.4 Najděte na mostě informaci, v jakém roce byl vyroben a v jakém roce opraven.**

*Zlatý most byl vyroben v roce 1915 a opraven v roce 2001.*

**8.5 Přejděte Zlatý most na druhou stranu, najdi sochu Panny Marie Budějovické, vyfoťte ji a zakreslete do mapy.**

### **ČTVRTÉ ZASTAVENÍ – věž Železná panna**

**8.6 Jaký typ střílny se na krytém ochozu dochoval?**

*Na ochozu se dochovala klíčová střílna.*

**8.7 Ve věži Železná panna se nachází zmenšený model jedné z městských bran. Které? Ve věži Železná panna najdeme zmenšený model Rožnovské brány, která byla zbořena v roce 1844.**

### **PÁTÉ ZASTAVENÍ – parkánová zed'**

**8.8 Změřte výšku parkánové zdi u pouliční lampy mezi lavičkami (přímo naproti soutoku Vltavy a Malše). Jakou výšku jste naměřili?**

*Výška parkánové zdi je přibližně 330 centimetrů.*

**8.9 Jak se válcová věž, která byla součástí hlavní hradební zdi, od 19. stol. nazývala? Věži za vícebokou baštou se od 19. století říkalo Otakarka.**

### **ŠESTÉ ZASTAVENÍ – Polygonální bašta**

**8.10 V horní části Polygonální bašty se nachází několik klíčových střílen. Kolik jste jich napočítali?**

*V horní části Polygonální bašty se nachází 5 klíčových střílen.*

**8.11 Ve výklenku kapličky je umístěna socha světce. Jak se světec jmenuje a kdy byla socha zhotovena? (napoví vám letopočet vytesaný do kamenného podstavce sochy). Zobrazený světec se jmenuje sv. Jan Nepomucký. Na podstavci je uveden letopočet 1708.**

### **SEDMÉ ZASTAVENÍ – Rabenštejnská věž**

**8.12 Vedle vstupu do Rabenštejnské věže je QR kód. Načtete jej a zjistíte stručnou informaci, jak vypadala věžeňská kobka a jak vězni dostávali jídlo.**



NÁRODNÍ  
PAMÁTKOVÝ  
ÚSTAV

ÚZEMNÍ ODBORNÉ  
PRACOVISŤE V ČESKÝCH  
BUDĚJOVICÍCH



*V Rabenštejnské věži byla zřízena věžeňská kobka pro nejtěžší případy, která neměla okna. Jídlo se sem spouštělo otvorem z patra.*

**8.13 Kolik střílen se zde nachází? Spočítejte je.**

*V kamenné parkánové zdi podél Mlýnské stoky lze napočítat 9 střílen.*



NÁRODNÍ  
PAMÁTKOVÝ  
ÚSTAV

ÚZEMNÍ ODBORNÉ  
PRACOVISŤE V ČESKÝCH  
BUDĚJOVICÍCH



České  
Budějovice

